
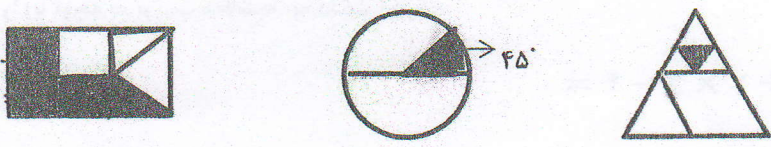




نام و نام خانوادگی:	سوالات ارزشیابی هماهنگ دانش آموزان	نام درس: ریاضی
شماره:	ودا و طلبان آزاد پایه ششم ابتدائی در نوبت	تاریخ امتحان:
نام آموزشگاه:	خرداد ماه ۱۳۹۳	مدت امتحان: دقیقه

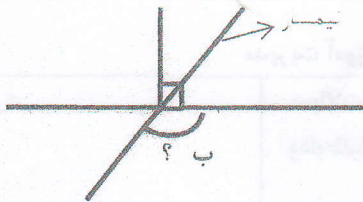
حدیث: امام علی (ع) می فرماید: احمق ترین خلق کسی است که خود را عاقل ترین خلق بداند.

ردیف	
۱-	<p>با توجه به محور، جمع یا تفریق مربوط به آن را بنویسید؟</p> 
۲-	<p>هر یک از شکل‌های زیر چه کسری را نشان می دهند؟</p> 
۳-	<p>مشهدی رحیم ثلث زمین خود را گندم کاشته است ربع باقی مانده را جو کاشته است. اگر مساحت زمین ۳ هکتار باشد چند متر مربع را سبزی کاشته است؟ (باقی مانده زمین سبزی کاشته شده است)</p>
۴-	<p>مساحت شکل رویرو را از روش مساحتی بدست آورید.</p> 
۵-	<p>جواب کسر مقابل را از دو روش به دست آورید.</p> $\frac{.5}{2} =$
۶-	<p>حاصل عبارت زیر را بدست آورید.</p> $\frac{12}{18} + \frac{2}{3} =$ $3 - \frac{4}{5}$



-۷

اندازه زاویه ب را به دست آورید.



-۸

کسر مقابل را تا جایی که امکان دارد ساده کنید.

$$\frac{48 \times 25 \times 11}{100 \times 36 \times 55} =$$

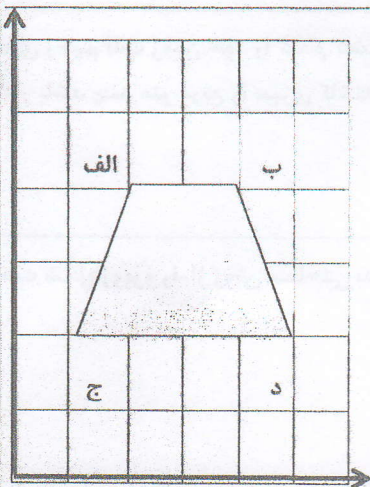
-۹

عملیات زیر را (با توجه به ترتیب محاسبه) به دست آورید.

$$8 \times 4 + 9 \div 2 \times 5 - 4 =$$

-۱۰

مختصات شکل روی محور را بنویسید.



-۱۱

در جای خالی عدد مناسب بنویسید.

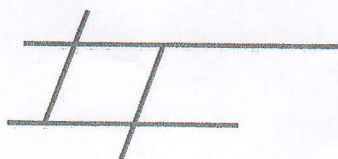
۰/۳ متر مکعب.....لیتر

۳۵ متر.....کیلومتر

۳/۵ دسی متر مربع.....سانتی متر مربع

-۱۲

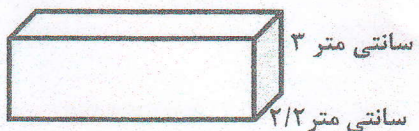
در شکل روبرو چند پاره خط و نیم خط وجود دارد.



-۱۳

با توجه به شکل مساحت کل آن را حساب کنید

۶/۵ سانتی متر



-۱۴

قیمت کالایی از ۱۲۰۰ تومان به ۲۰۰۰ تومان رسیده است چند درصد تورم شامل این کالا شده است؟

-۱۵

نسبت پول علی به برادرش ۳ به ۷ و نسبت پول علی به خواهرش ۴ به ۱۰ می باشد اگر مجموع پول آنها ۳۵۰۰ تومان باشد سهم هر یک را محاسبه کنید.

-۱۶

دمای هوای همدان ۳ درجه زیر صفر است اگر دمای هوای تهران ۵ درجه گرم تر باشد دمای تهران چند درجه است؟ (بر روی محور نشان دهید)

-۱۷

جمع و تفریق زیر را به دو روش انجام دهید.

$$\begin{array}{r} ۹۵ \\ - ۳۲ \\ \hline \end{array}$$

$$\begin{array}{r} ۸۵۶ \\ + ۱۷۵ \\ \hline \end{array}$$

بازخورد آموزگار

